

SINALIZAÇÃO DE TRÂNSITO

01) Numa via cujas faixas de tráfego sejam separadas por linhas brancas, podemos dizer que:

- A) É uma via de mão única.
- B) É uma via de mão dupla.
- C) É uma estrada.
- D) É uma ciclovia.

02) As placas que têm a função de educar condutores e pedestres quanto ao seu comportamento no trânsito, são as:

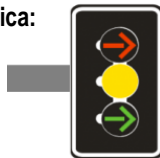
- A) De atrativos turísticos.
- B) Educativas.
- C) De advertência.
- D) De regulamentação.

03) As mensagens expressas nas placas de sinalização de advertência são de caráter de:

- A) Ordem.
- B) Informação.
- C) Alerta.
- D) Educação.

04) O sinal semafórico, identificado na imagem, indica:

- A) Controle ou faixa reversível.
- B) Direção livre.
- C) Direção controlada.
- D) Direção proibida.



05) A sinalização de trânsito é feita nas vias públicas através de:

- A) Placas, gestos e marcos.
- B) Placas, advertência, indicações luminosas.
- C) Placas, manobras, indicações luminosas, gestos e sinais sonoros.
- D) Placas, marcações, dispositivos auxiliares, indicações luminosas, gestos e sinais sonoros.

06) As cores das luzes utilizadas para controle de fluxo de pedestres são:

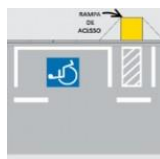
- A) Vermelha, amarela e verde.
- B) Vermelha e amarela.
- C) Verde, vermelha intermitente e vermelha.
- D) Amarela e verde.

07) As placas de sinalização, quanto à sua função classificam-se em:

- A) De regulamentação, advertência e indicação.
- B) De regulamentação, semafórica e indicação.
- C) De regulamentação, semafórica e advertência.
- D) De serviços auxiliares, advertência e faixa de proteção para pedestres.

08) O símbolo, inscrito no pavimento, e associado à sinalização vertical, representado por uma cadeira de rodas demarca:

- A) Local proibido de parada de veículos conduzidos por deficientes físicos.
- B) Local de estacionamento de veículos conduzidos por deficientes físicos ou que os transporte.
- C) Local de embarque e desembarque de deficientes físicos.
- D) Local de trânsito de deficientes físicos.



09) A sinalização terá a seguinte ordem de prevalência, em ordem:

- A) As indicações do semáforo sobre os demais sinais; as indicações dos sinais sobre as demais normas de trânsito; as ordens do agente de trânsito sobre as normas de circulação e outros sinais.
- B) As ordens do agente de trânsito sobre as normas de circulação e outros sinais; as indicações dos sinais sobre as demais normas de trânsito.
- C) Não existe ordem de prevalência.
- D) As ordens do agente de trânsito sobre as normas de circulação e outros sinais; as indicações do semáforo sobre os demais sinais; as indicações dos sinais sobre as demais normas de trânsito.

10) A placa A-8 adverte que:

- A) Via lateral à esquerda.
- B) Entroncamento oblíquo à direita.
- C) Interseção em "T".
- D) Bifurcação em "Y".



11) A placa R-6a regulamenta:

- A) Proibido parar e estacionar.
- B) Proibido estacionar.
- C) Estacionamento regulamentado.
- D) Proibido parar.

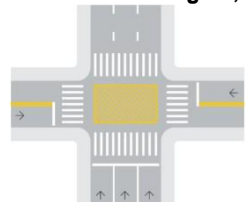


12) Ao encontrar um trecho de via com sentido único e mais de uma faixa de circulação, você saberá que a mudança de faixa será proibida quando a sinalização horizontal for:

- A) Linha contínua simples amarela.
- B) Linha simples seccionada branca.
- C) Linha dupla seccionada amarela.
- D) Linha simples contínua branca.

13) A marcação de área de conflito, identificada na imagem, significa que o condutor:

- A) Não pode circular com seu veículo, pois é área exclusiva de pedestre.
- B) Não deve parar e nem estacionar o veículo.
- C) Pode estacionar sua motocicleta.
- D) Deve parar e estacionar o veículo.



14) A ordem do Agente da Autoridade de Trânsito de parada para todos os veículos que venham de direções que cortem ortogonalmente a direção indicada pelos braços estendidos, qualquer que seja o sentido de seu deslocamento, é:

- A)
- B)
- C)
- D)

15) A placa R-1 regulamenta:

- A) Semáforo à frente.
- B) Parada obrigatória à frente.
- C) Dê a preferência.
- D) Parada Obrigatória.



16) A placa A-10a adverte a existência de:

- A) Via lateral à esquerda.
- B) Via lateral à direita.
- C) Entroncamento oblíquo à esquerda.
- D) Curva à esquerda.



17) A placa TIT-10 indica:

- A) Festas populares.
- B) Rodeio.
- C) Teatro.
- D) Convenções.



18) A placa de número A-22 indica:

- A) Ponte móvel.
- B) Estreitamento de pista à direita.
- C) Ponte estreita.
- D) Estreitamento de pista ao centro.



19) A placa R-17 regulamenta:

- A) Carga máxima permitida.
- B) Peso máximo permitido por eixo.
- C) Comprimento máximo permitido.
- D) Largura máxima permitida por eixo.



20) A sinalização semafórica de advertência que tem a função de advertir da existência de obstáculo ou situação perigosa compõe-se de:

- A) Uma verde e uma vermelha.
- B) Uma ou mais luzes de cor amarela.
- C) Uma ou duas de cor vermelha.
- D) Uma ou duas de cor verde.



21) As linhas transversais, identificadas na imagem, são chamadas de:

- A) Linhas de Retenção.
- B) Linhas de Dê a Preferência.
- C) Linhas de Estímulo à Redução de Velocidade.
- D) Linhas de Canalização.



22) São aplicados junto a obstáculos, como viadutos e pontes:

- A) Dispositivos de canalização.
- B) Sinalização de alerta.
- C) Marcadores de obstáculo e perigo.
- D) Todas acima.

23) As linhas seccionadas ou contínuas, as faixas para pedestres, os sinais e as palavras inscritas no solo, são marcas que caracterizam a sinalização:

- A) Vertical.
- B) Horizontal.
- C) Por gestos.
- D) Por barreiras.

24) Diante da placa SAU-14 você entende que é uma área:

- A) Permitida para camping.
- B) Com aeroporto nas proximidades.
- C) Com Igreja do patrimônio histórico.
- D) De proteção para indígenas.



25) É finalidade do dispositivo ilustrado:

- A) Advertir sobre situação inesperada à frente.
- B) Transmitir mensagens educativas.
- C) Regular a velocidade em função do volume de veículos.
- D) Todas as afirmativas acima estão corretas.



26) Qual o significado da sinalização ao lado?

- A) Sinalização de alerta.
- B) Marcadores de perigo.
- C) Marcadores de alinhamento.
- D) Dispositivos de canalização.



27) Identifique o significado do gesto do condutor expresso no desenho.

- A) Diminuir a marcha ou parar.
- B) Virar à esquerda.
- C) Virar à direita.
- D) Trânsito impedido em todas as direções.



28) Indique o nome correto da placa R-21:

- A) Barreira.
- B) Alfândega.
- C) Fiscalização.
- D) Balança.



29) Marcas que delineiam a parte da pista destinada à circulação de veículos, separando-a do acostamento, chamam-se linhas:

- A) Planas.
- B) Linhas férreas.
- C) Limite.
- D) De bordo.

30) Mensagens adicionais podem ser incorporadas às placas de sinalização de regulamentação e de advertência. Estas mensagens são denominadas:

- A) Informações complementares.
- B) Informações especializadas.
- C) Mensagens avulsas.
- D) Comunicados extras.