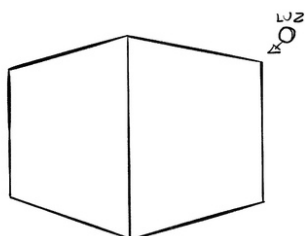


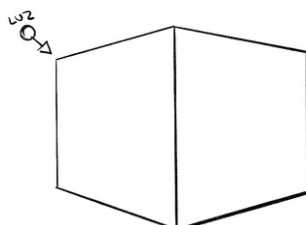
02

## Linhas com pouca luz

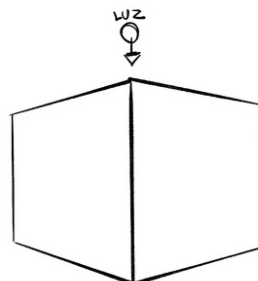
A partir do exercício que fizemos, onde a espessura da linha varia de acordo com a **direção da luz**, analisemos os exemplos abaixo.



01



02



03

Qual deles melhor representa a **iluminação**?

Selecione uma alternativa

**A**

O exemplo 01.

**B**

O exemplo 03.

**C**

O exemplo 02.

**D**

Nenhum está correto.