

Contabilidade Avançada



→ BALANÇO PATRIMONIAL

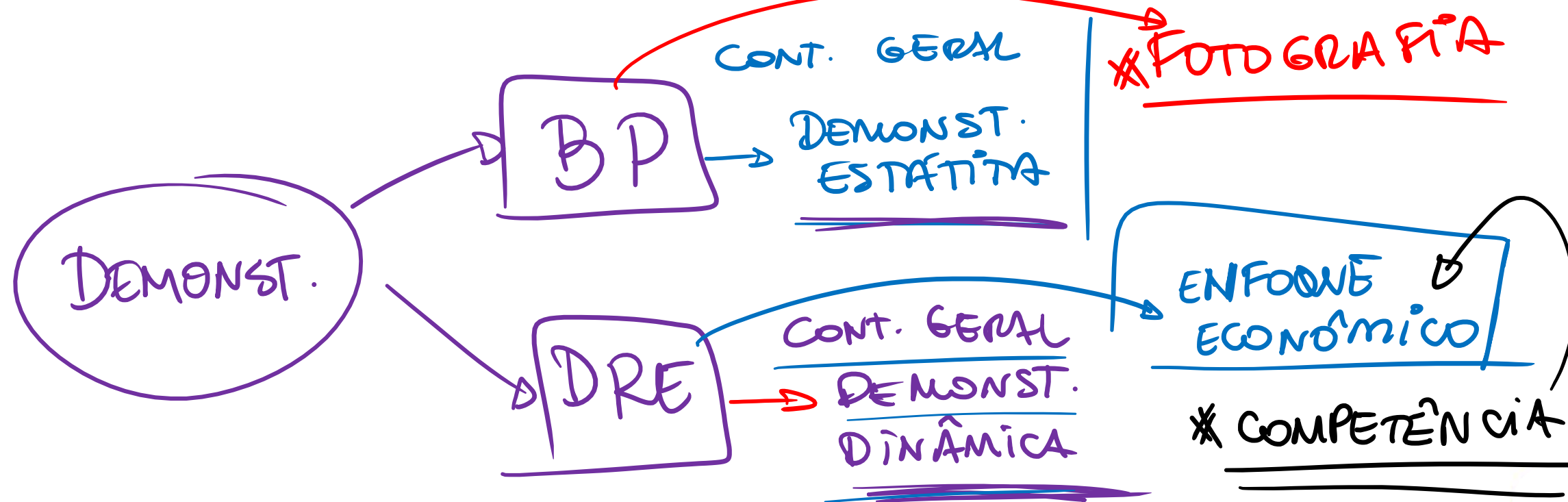
→ DEMONSTRAÇÃO DO RESULTADO

Análise vertical e horizontal



As análises vertical e horizontal consistem em análises que buscam entender a dinâmica das operações de uma empresa.

DINÂMICA DE OPERAÇÕES



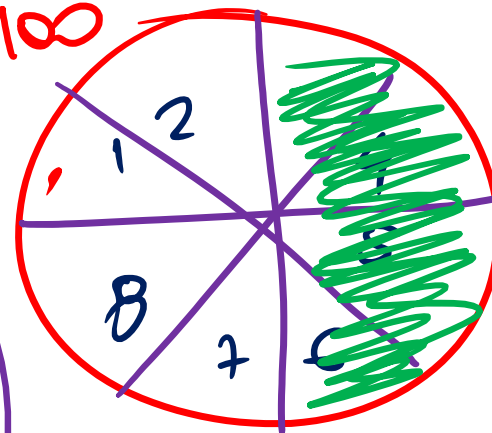

A análise vertical busca entender qual o percentual de cada setor da empresa em seus resultados.

	%
AC	50.000
ANC	50.000
RLP	
INV	
IMOB	
INTAN	
total	100.000

INV.
total

$$\frac{AC}{TOTAL} = \frac{50}{100} = 50\%$$

$$\frac{1}{8} \times 100$$



ELA
CONSUMIU
50%
TOTAL

$$\frac{4}{8} \times 100 = 50\%$$

A análise horizontal foca na evolução dos resultados da empresa ao longo do tempo.

EVOLUÇÃO AO LONGO

TEMPO →

	2019	2020
AC	100.	150
ANC		

$$\frac{150}{100} =$$

$$\frac{\text{ATUAL}}{\text{ANTERIOR}} = \frac{520.000}{513.000} = \boxed{1,01}$$

$$1,01 \times 100 = 101,3\%$$

HORIZONTAL

Ativo	2017	2018
Caixa	R\$ 30.000,00	R\$ 40.500,00
Bancos	R\$ 45.000,00	R\$ 51.907,00
Contas a receber	R\$ 328.000,00	R\$ 412.000,00
Estoque	R\$ 513.000,00	R\$ 520.000,00
Ativo circulante	R\$ 916.000,00	R\$ 1.000.407,00

VERTICAL

$$\frac{\text{ESTOQUE}}{\text{A C}} = \frac{513000}{916000} = \boxed{56\%}$$

Questões

Análise vertical e horizontal



1. COPESE UFPI - ALEPI/2020) Sobre a análise vertical e horizontal das demonstrações contábeis, é CORRETO afirmar:

a) A análise horizontal tem como principal objetivo evidenciar o crescimento ou a redução de itens dos demonstrativos contábeis de um exercício social para caracterizar tendências.

b) A análise vertical mostra a importância de cada conta em relação à demonstração financeira a que pertence, através da comparação com padrões do ramo ou com percentuais da própria empresa em anos anteriores, só não permite inferir se há itens fora das proporções normais.

c) A análise horizontal se baseia na evolução dos saldos das contas ao longo dos anos. A comparação ocorre entre os mesmos elementos patrimoniais, porém em exercícios diferentes.

d) A análise vertical é eficaz porém não permite avaliar as estruturas de composição de itens de um demonstrativo contábil, buscando evidenciar as participações dos elementos patrimoniais e de resultado dentro de um total.

e) No cálculo da Análise vertical da Demonstração do Resultado do Exercício (DRE) a base deve ser a receita bruta pois a receita líquida não demonstra todos os elementos que impactam no patrimônio.

$$\frac{LL}{RB} \quad \frac{LL}{RL}$$

GABARITO: C

2. IDCAP - SAAE Linhares/2019) Analise os procedimentos a seguir:

I- Análises do peso de cada conta nas demonstrações;

% CADA CONTA / TOTAL

II- O percentual de cada conta mostra sua real importância no conjunto;

III- No Balanço Patrimonial: Calcula-se o percentual de cada conta em relação ao total do Ativo;

IV- Na DRE: Calcula-se o percentual de cada conta em relação às vendas líquidas.

Os itens acima apresentam procedimentos da:

CADA CONTA EM RELAÇÃO AO TOTAL
REAL IMPORTÂNCIA

a) Análise Vertical.

b) ~~Análise Horizontal.~~ tempo

c) ~~Análise Linear.~~

d) ~~Análise Continental.~~

e) ~~Análise de Capital Bruto.~~

A

3. OBJETIVA CONCURSOS - Pref Antônio Prado/2019) Assinalar a alternativa que preenche a lacuna abaixo CORRETAMENTE:

_____ é o instrumento que calcula a variação percentual ocorrida de um período para outro, buscando evidenciar se houve crescimento ou decrescimento do item analisado.

a) Análise horizontal

b) ~~Análise vertical~~

c) Indicadores de atividade ROTATIVIDADE TEMPO

d) Análise de preço de ações

e) Alavancagem financeira EMPRÉSTIMOS / FINANCIAM.

A

4. Unifil - Pref Tupãssi/2019) A análise das demonstrações contábeis tem por objetivo observar e confrontar os elementos patrimoniais e os resultados das operações, visando ao conhecimento minucioso de sua composição qualitativa e de sua expressão quantitativa, contando com a opção de alguns métodos. Sobre os métodos de análise de demonstrações contábeis, assinale a alternativa correta.

- a) ~~Método de percentagens horizontais consiste no relacionamento dos valores das contas de cada grupo com montante do respectivo grupo, bem como do montante de cada grupo com o total.~~ LONGO TEMPO
- b) Método de índices, é o estudo sistêmico do comportamento da instituição pelo estabelecimento de ratios, em meio uma razão entre duas ou mais quantidades monetárias ou físicas, apresentando uma como denominador e outra como numerador da razão. ÍNDICES DE LIQUIDEZ - SECA / GERAL
CORRENTE / IMEDIATA
- c) ~~Método de percentagens verticais apura o percentual de crescimento ou declínio de valores de uma mesma conta ou grupo de contas, entre duas datas ou períodos considerados.~~
- d) ~~Método das diferenças absolutas, é a comparação entre apenas uma situação de cada vez, mediante apuração das diferenças absolutas entre valores monetários de uma mesma conta ou grupo, de uma data para outra, sendo insuficiente em regimes inflacionários.~~

GABARITO: B

5. Unifil - Pref Tupãssi/2019) A análise da estrutura financeira de uma empresa envolve o estudo de um conjunto de indicadores operacionais que refletem todas as decisões tomadas com relação ao capital de giro e seu equilíbrio financeiro. Sobre análise econômica-financeira, assinale a alternativa correta.

a) São denominados valores financeiros, todos os valores circulantes, exceto os que possuem características cíclicas (todos elementos patrimoniais vinculados diretamente ao ciclo operacional da organização). CURTO PRAZO
OPERACIONAL

b) Necessidade Operacional de Investimentos de Longo Prazo (NIG) se dá pela soma do ativo cíclico com o passivo cíclico, pois os elementos cíclicos ~~denotam~~ os investimentos de longo prazo e os financiamentos contínuos inerentes a atividade da instituição.

c) As principais contas do passivo permanente são: valores dos grupos de imobilizado, investimentos realizável a longo prazo.

d) Saldo Disponível é uma medida de margem de segurança financeira da organização, que indica sua capacidade externa de financiar um crescimento da atividade operacional.

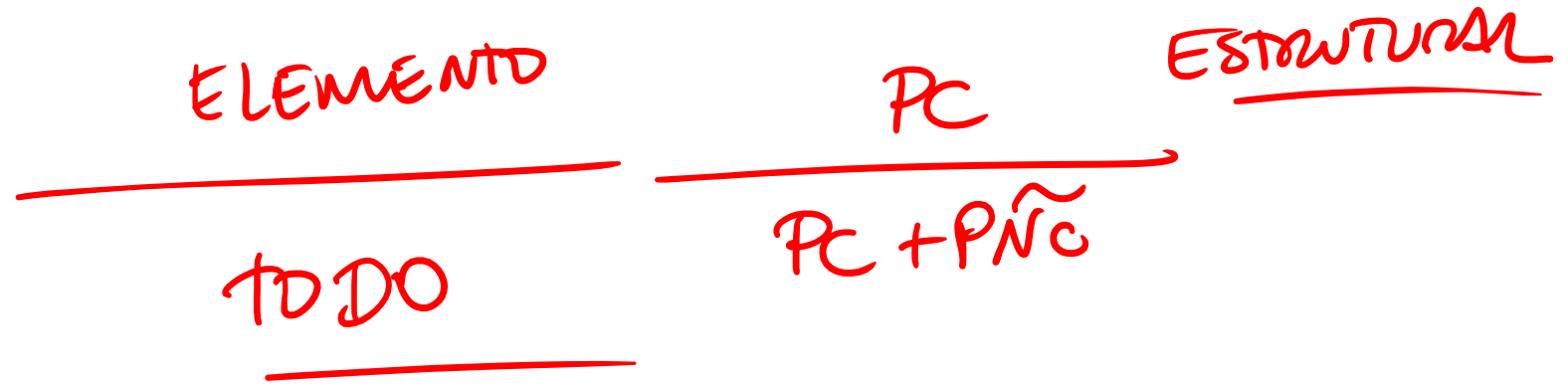
DISPONIBILIDADES

→ CAIXA
→ BANCO
→ APLIC. LIQ. IMEDIATA

GABARITO: A

6. SELECON - Pref Cuiabá/2019) Por ocasião da realização da análise e avaliação econômica financeira de uma determinada empresa, foi estabelecida a relação de um elemento patrimonial com o todo de que faz parte. O analista, ao estabelecer essa verificação, procedeu ao seguinte tipo de análise:


- a) de estrutura
- b) de evolução → TEMPO
- c) por quociente
- d) por diferença absoluta



A

7. CS UFG - SANEAGO/2018) A análise vertical das contas das demonstrações contábeis mostra a composição percentual e a participação de cada conta em relação a um valor adotado como base. A análise vertical do balanço patrimonial permite visualizar, do lado do passivo, a parcela de participação de fontes de recursos oriundos de

- a) imobilizações externas e internas.
- b) investimentos financeiros e de capital.
- c) capital de terceiros e próprios.
- d) fundos monetários e não monetários.



ATIVO

ANC

RLP
INV.
IMOB
INTANG

PASSIVO

PC } CAPITAL
DE
TERCEIROS
PNC }

PL } CAPITAL
PRÓPRIO

8. FGV - SEFIN RO/2018) Um contador deseja analisar o comportamento das despesas operacionais de uma sociedade empresária, ao longo dos anos.

Assinale a opção que indica o principal foco de análise para atingir seu objetivo.

- ~~a) Os indicadores de liquidez.~~
- ~~b) Os indicadores de lucratividade.~~
- ~~c) Os indicadores de rentabilidade.~~
- ~~d) A análise vertical.~~
- e) A análise horizontal.

LIQUIDEZ

→ **GENIAL** $\frac{AC + RLP}{PC + PNC}$

• **SECA** $\frac{AC - ESTOQUES}{PC}$

• **CORRENTE** $\frac{AC}{PC}$

IMEDIATA → $\frac{DISP}{PC}$

RENTABILIDADE

→ $DO\ PL = \frac{LL}{PL}$

→ $DO\ ATIVO = \frac{LL}{ATIVO}$

→ $MARGEM\ LÍQUIDA = \frac{LL}{VENDAS}$

→ $Giro\ do\ ATIVO = \frac{VENDAS}{ATIVO}$

GABARITO: E

9. FUMARC - CEMIG/2018) As técnicas de análise vertical e de análise horizontal permitem informar, por exemplo, quais são os principais tipos de ativos e como a participação/relevância de cada ativo se alterou nos últimos exercícios. Esse mesmo raciocínio pode ser estendido para os itens do Passivo mais o Patrimônio Líquido e, também, para as contas de Resultado. Portanto, é CORRETO afirmar:

- a) ~~A análise vertical compara os valores de uma demonstração em determinado exercício social com as demonstrações em exercícios anteriores.~~ → HORIZONTAL
- b) As análises vertical e horizontal devem ser empregadas de forma complementar, a fim de obter uma visão mais completa da situação da empresa.
- c) ~~As análises vertical e horizontal da demonstração do resultado permitem avaliar a participação de cada elemento na formação do lucro ou prejuízo do período.~~
- d) ~~O objetivo da análise horizontal concentra-se na verificação da estrutura de composição de itens dos demonstrativos, bem como a sua evolução no tempo.~~ → VERTICAL

B

→ HORIZONTAL

GABARITO: B

10. FGV - MPE AL/2018) Sobre os objetivos da análise vertical do balanço patrimonial de uma entidade, assinale a afirmativa correta.

~~a) Detectar a composição percentual das receitas e despesas, evidenciando aquelas que mais influenciaram na formação do resultado.~~

~~b) Verificar o comportamento de cada aplicação e a origem dos recursos que compõem o patrimônio da entidade.~~

~~c) Mostrar a evolução de cada componente que compõe o patrimônio da entidade, período a período.~~

d) Visualizar de modo objetivo e direto a representatividade de cada componente que compõe o patrimônio da entidade.

~~e) Medir a posição financeira da entidade.~~

D

11. NC-UFPR - CM Quitandinha/2018) Com relação às Demonstrações Contábeis e Técnicas de Análise, numere a coluna da direita de acordo com sua correspondência com a coluna da esquerda.

1. Análise Horizontal.
2. Análise Vertical.
3. Valor Econômico Adicionado.
4. Método Fleuriet.

Vertical CONTA
TOTAL ANTERIOR PERÍODO

↑

4) Reclassifica os demonstrativos em operacional e financeiro (não operacional).

3) Baseia-se na diferença entre a taxa de retorno sobre o capital investido e o custo desse capital.

1) Parte da comparação do valor de cada item do demonstrativo, em cada período, com o valor correspondente em um determinado período anterior, considerado como base.

2) Baseia-se nos valores relativos das contas das demonstrações financeiras.

Assinale a alternativa que apresenta a numeração correta da coluna da direita, de cima para baixo.

- a) 3 - 2 - 1 - 4.
- b) 4 - 3 - 1 - 2.
- c) 3 - 4 - 2 - 1.
- d) 4 - 3 - 2 - 1.
- e) 1 - 4 - 2 - 3.

B

GABARITO: B

12. CS UFG - CM GYN/2018) Qual é a análise que facilita a avaliação da estrutura do ativo, passivo, bem como a participação de cada item da demonstração de resultado na formação do lucro ou prejuízo?

- a) ~~Capital.~~
- b) Vertical.
- c) ~~Horizontal.~~
- d) Estrutural.

B

13. NC-UFPR - COREN PR/2018) Considere as afirmativas abaixo, acerca da situação patrimonial e do desempenho econômico e financeiro da Companhia Curitiba para os períodos encerrados em 31/12/X1 e 31/12/X0:

- **VERTICAL** Em 31/12/X1 os ativos imobilizados representavam 60% dos ativos totais da Companhia Curitiba.
- **HORIZONTAL** Houve uma redução de 30% no montante de empréstimos a pagar entre 31/12/X1 e 31/12/X0.
- **HORIZONTAL** O resultado do período X1 cresceu 28% em relação ao resultado do período X0.
- **VERTICAL** As receitas financeiras representaram 8% das receitas totais do período X1.
- **HORIZONTAL** Houve uma redução de 18% no valor das despesas gerais administrativas em X1 quando comparadas a X0.

Com base nos conceitos de Análise Horizontal e Vertical da Análise de Demonstrações Contábeis, assinale a alternativa com a sequência correta do tipo de análise efetuada, de cima para baixo.

- ~~a) Vertical – Vertical – Horizontal – Vertical – Vertical.~~
- ~~b) Horizontal – Vertical – Vertical – Horizontal – Vertical.~~
- ~~c) Horizontal – Horizontal – Vertical – Vertical – Horizontal.~~
- d) Vertical – Horizontal – Horizontal – Vertical – Horizontal.**
- ~~e) Vertical – Horizontal – Horizontal – Horizontal – Vertical.~~

①

GABARITO: D

14. FCC - METRO SP/2019) O balanço abaixo representa a situação do ativo circulante da empresa Mahalanobis ao fim dos exercícios de 2017 e 2018.

Ativo	2017	2018
Caixa	R\$ 30.000,00	R\$ 40.500,00
Bancos	R\$ 45.000,00	R\$ 51.907,00
Contas a receber	R\$ 328.000,00	R\$ 412.000,00
Estoque	R\$ 513.000,00	R\$ 520.000,00
Ativo circulante	R\$ 916.000,00	R\$ 1.000.407,00

Considerando o ano de 2017 como o ano base de valor-índice 100, a análise horizontal dos estoques em 2018 é de

- a) 135%.
- b) 50,76%.
- c) 125,6%.
- d) 90,64%.
- e) 101,36%.

ATUAL

ANTERIOR

$$\frac{520.000}{513.000} \times 100 = 101,36\%$$

GABARITO: E

15. FAURGS - HCPA/2018) Observe as demonstrações de resultado da empresa Cia Alfa e da sua concorrente, Cia Beta, nos exercícios sociais de 20X4 e 20X5:

	Cia Alfa			Cia Beta		
	20X4	20X5	AH*	20X4	20X5	AH*
Receitas	90.000	105.000	16,7%	85.000	120.000	41,2%
Custos	(54.000)	(65.000)	20,4%	(60.000)	(72.000)	20,0%
Lucro bruto	36.000	40.000	11,1%	25.000	48.000	92,0%
Despesas comerciais	(5.400)	(5.800)	7,4%	(3.500)	(5.000)	42,9%
Despesas administrativas	(4.900)	(5.100)	4,1%	(2.800)	(3.000)	7,1%
Despesas financeiras	(3.400)	(6.000)	76,5%	(1.800)	(1.700)	-5,6%
Lucro operacional	22.300	23.100	3,6%	16.900	38.300	126,6%

* Análise Horizontal

20,4% / 20%

9

P

Considerando a análise horizontal das demonstrações de resultados acima, pode-se afirmar que:

a) a Cia Alfa é a empresa que pagará maiores dividendos para os acionistas no exercício social de 20X5.
 MENOR LUCRO OPERAC.

b) a Cia Beta reduziu mais fortemente os custos de produção do que a Cia Alfa.

c) a Cia Beta possui maiores custos financeiros do que a Cia Alfa.

d) a Cia Beta deve realizar um programa de redução de custos durante o exercício social de 20X6.

e) a Cia Alfa apresentou menor crescimento do lucro bruto do que a Cia Beta. 92%.

GABARITO: E

LETRA "A" - INCORRETA

---> Em 20X5, o lucro operacional da Cia ALFA (23.100) é **menor** que da Cia BETA (38.300), logos dividendos serão **menores**.

LETRA "B" e "D" - INCORRETA

---> Na Cia ALFA, os custos foram maiores que a receita líquida em 3,7% (20,4%-16,7%) na evolução dos períodos, enquanto que na Cia BETA a receita líquida é que foi maior que o custos em 21,2% (41,2% - 20%) e, conseqüentemente, o lucro bruto da Cia BETA (92%) foi maior em relação a Cia ALFA (11,1%). Então, **é a Cia ALFA que deverá realizar um programa de redução de custo.**

LETRA "C" - INCORRETA

---> Os custos financeiros (despesas financeiras) da Cia BETA reduziram em **5,6%**, enquanto que da Cia ALFA houve um aumento de **76,5%** no período de 20X4 em relação a 20X5. Logo, os maiores custos financeiros é da **Cia ALFA**.

LETRA "E" - CORRETA

---> O lucro operacional da Cia ALFA aumentou em **11,1%**, enquanto que da Cia BETA houve um **aumento bem superior de 92%** no período de 20X4 em relação a 20X5. Logo, o menor crescimento do lucro bruto é da **Cia ALFA**.