


☰ 06

## Angulação correta


Nós vimos em aula, que para fazer um grid correto podemos criar linhas verticais e incliná-las 120 graus para a direita e para a esquerda.

Sabendo disso, qual das opções abaixo mostra o grid correto?


01




02



03



04



*Selecione uma alternativa*

**A** Opção 04.

**B** Opção 02.

**C** Opção 03.

**D** Opção 01.