

# INGLÊS365































teacher.Elza



Você verá abaixo a tabela do Campeonato Inglês.  
Com base nessa tabela, responda as perguntas que seguem.

Club	MP	W	D	L	GF	GA	GD	Pts	Last 5
 Man City	29	22	4	3	68	18	50	70	● ● ● ● ●
 Liverpool	29	21	6	2	75	20	55	69	● ● ● ● ●
 Chelsea	28	17	8	3	57	19	38	59	● ● ● ● ●
 Arsenal	28	17	3	8	44	31	13	54	● ● ● ● ●
 Tottenham	29	16	3	10	47	36	11	51	● ● ● ● ●
 Man United	29	14	8	7	48	40	8	50	● ● ● ● ●
 West Ham	30	14	6	10	49	39	10	48	● ● ● ● ●
 Wolves	30	14	4	12	31	26	5	46	● ● ● ● ●
 Aston Villa	29	11	3	15	41	40	1	36	● ● ● ● ●
 Leicester City	27	10	6	11	42	46	-4	36	● ● ● ● ●
 Southampton	29	8	11	10	36	45	-9	35	● ● ● ● ●
 Crystal Palace	29	7	13	9	39	38	1	34	● ● ● ● ●
 Brighton	29	7	12	10	26	36	-10	33	● ● ● ● ●
 Newcastle	29	7	10	12	32	49	-17	31	● ● ● ● ●
 Brentford	30	8	6	16	33	47	-14	30	● ● ● ● ●



	Leeds United	30	7	8	15	34	67	-33	29	    
	Everton	27	7	4	16	29	47	-18	25	    
	Watford	29	6	4	19	29	55	-26	22	    
	Burnley	27	3	12	12	22	38	-16	21	    
	Norwich City	29	4	5	20	18	63	-45	17	    

Qual é o **third** time de futebol na tabela do campeonato inglês?

Qual é o **twelfth soccer team** na tabela do campeonato inglês?

Qual é o **twentieth soccer team** na tabela do campeonato inglês?

Qual é o **first soccer team** na tabela do campeonato inglês?

Qual é o **ninth soccer team** na tabela do campeonato inglês?

Em que posição está o Liverpool? (escrever por extenso)

Em que posição na tabela está o Manchester United? (escrever por extenso)

Em que posição na tabela está o Tottenham? (escrever por extenso)

## RESPOSTAS

Qual é o **third** time de futebol na tabela do campeonato inglês?

Chelsea.

Qual é o **twelfth soccer team** na tabela do campeonato inglês?

Crystal Palace.

Qual é o **twentieth soccer team** na tabela do campeonato inglês?

Norwich City.

Qual é o **first soccer team** na tabela do campeonato inglês?

Man City / Manchester City.

Qual é o **ninth soccer team** na tabela do campeonato inglês?

Aston Villa.

Em que posição está o Liverpool? (escrever por extenso)

Second.

Em que posição na tabela está o Manchester United?  
(escrever por extenso)

Sixth.

Em que posição na tabela está o Tottenham?  
(escrever por extenso)

Fifth.