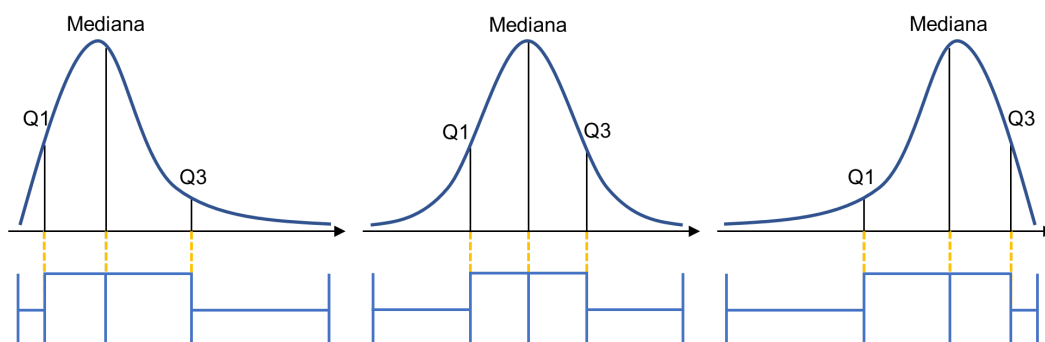
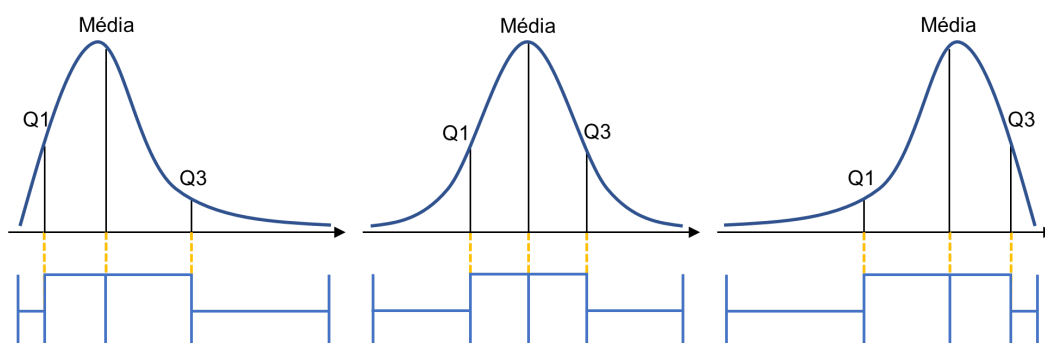
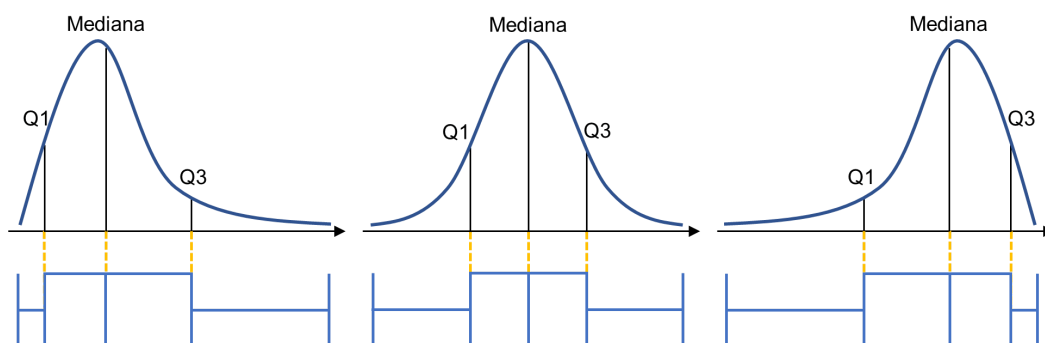


05

Assimetria dos dados

Em nosso treinamento, vamos trabalhar com dados assimétricos, como vimos no último vídeo. As alternativas abaixo mostram uma representação gráfica dos comportamentos das distribuições de uma variável que podem ser encontrados. Qual figura está correta?

Selecione uma alternativa

A**Assimetria à Esquerda****Simétrica****Assimetria à Direita****B****Assimetria à Esquerda****Simétrica****Assimetria à Direita****C****Assimetria à Direita****Simétrica****Assimetria à Esquerda****D**

